


4. forduló
5. osztály

1. Ki lehet-e fizetni 500 forintot 12 pénzdarabbal úgy, hogy csak 5, 20 és 50 forintosokkal fizetünk?





2. Egy mérleghintán Pisti és egy kutya 5 dobozt tart egyensúlyban, két macska és egy kutya viszont három dobozt; egy kutya 4 macskát tud egyensúlyozni. Hány macskát tart egyensúlyban Pisti?

Beküldési határidő: 2015. december 9.

4. forduló
5. osztály

1. Ki lehet-e fizetni 500 forintot 12 pénzdarabbal úgy, hogy csak 5, 20 és 50 forintosokkal fizetünk?





2. Egy mérleghintán Pisti és egy kutya 5 dobozt tart egyensúlyban, két macska és egy kutya viszont három dobozt; egy kutya 4 macskát tud egyensúlyozni. Hány macskát tart egyensúlyban Pisti?

Beküldési határidő: 2015. december 9.

4. forduló
5. osztály

1. Ki lehet-e fizetni 500 forintot 12 pénzdarabbal úgy, hogy csak 5, 20 és 50 forintosokkal fizetünk?



2. Egy mérleghintán Pisti és egy kutya 5 dobozt tart egyensúlyban, két macska és egy kutya viszont három dobozt; egy kutya 4 macskát tud egyensúlyozni. Hány macskát tart egyensúlyban Pisti?

Beküldési határidő: 2015. december 9.